



Βάλε σε κύκλους
τα νομίσματα
που χρειαζόμαστε,
για να αγοράσουμε
τα πράγματα.

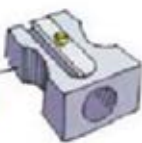
22 λεπτά



35 λεπτά



60 λεπτά





Βάλε σε κύκλους
τα νομίσματα
που χρειαζόμαστε,
για να αγοράσουμε
τα πράγματα.





Γράψε τους αριθμούς
που λείπουν.

$$\begin{array}{r} 4 \\ +2 \\ \hline \dots \end{array} \quad \begin{array}{r} 40 \\ +20 \\ \hline \dots \end{array}$$

$$\begin{array}{r} 3 \\ +2 \\ \hline \dots \end{array} \quad \begin{array}{r} 30 \\ +20 \\ \hline \dots \end{array}$$

$$\begin{array}{r} 2 \\ +2 \\ \hline \dots \end{array} \quad \begin{array}{r} 20 \\ +20 \\ \hline \dots \end{array}$$

$$\begin{array}{r} 3 \\ +3 \\ \hline \dots \end{array} \quad \begin{array}{r} 30 \\ +30 \\ \hline \dots \end{array}$$

$$\begin{array}{r} 1 \\ +3 \\ \hline \dots \end{array} \quad \begin{array}{r} 10 \\ +30 \\ \hline \dots \end{array}$$

$$\begin{array}{r} 5 \\ +2 \\ \hline \dots \end{array} \quad \begin{array}{r} 50 \\ +20 \\ \hline \dots \end{array}$$



2

Γράψε τους αριθμούς που λείπουν.

$\begin{array}{r} 4 \\ +2 \\ \hline \dots \end{array}$	$\begin{array}{r} 54 \\ +2 \\ \hline \dots \end{array}$	$\begin{array}{r} 44 \\ +2 \\ \hline \dots \end{array}$
--	---	---

$\begin{array}{r} 3 \\ +4 \\ \hline \dots \end{array}$	$\begin{array}{r} 23 \\ +4 \\ \hline \dots \end{array}$	$\begin{array}{r} 33 \\ +4 \\ \hline \dots \end{array}$
--	---	---


$\begin{array}{r} 5 \\ +3 \\ \hline \dots \end{array}$	$\begin{array}{r} 25 \\ +3 \\ \hline \dots \end{array}$	$\begin{array}{r} 65 \\ +3 \\ \hline \dots \end{array}$
--	---	---



1

Ένα πακέτο
έχει **5** μαστίχες.

Η Βάσω αγόρασε **4** πακέτα.
Πόσες είναι όλες μαζί
οι μαστίχες
που αγόρασε η Βάσω;



4 φορές το **5** =

Όλες μαζί οι μαστίχες είναι ...



2

Ένα σκυλί έχει **4** πόδια.
Πόσα πόδια έχουν μαζί
τα **3** σκυλιά;




3 φορές το **4** =

Τα σκυλιά **όλα μαζί** έχουν ... πόδια.



3

Μοίρασε **8 κόκκαλα**
σε **4 σκυλιά**.
Πόσα κόκκαλα
θα πάρει κάθε σκυλί;




4 φορές το **2** =

Το κάθε σκυλί θα φάει κόκκαλα.



4



Μοίρασε **12 αβγά**
σε **3 φωλιές**.
Ζωγράφισε τα αβγά
στις φωλιές.



Σε κάθε φωλιά έβαλες αβγά

3 φορές το =