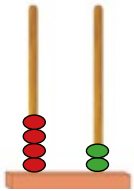
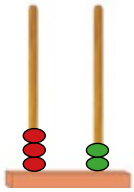


1

Κάνε τις προσθέσεις.



$$\begin{array}{r} 32 \\ + 42 \\ \hline 74 \end{array}$$



$$\begin{array}{r} 33 \\ + 2 \\ \hline \dots \end{array}$$

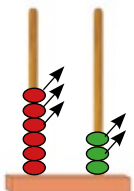


$$\begin{array}{r} 50 \\ + 35 \\ \hline \dots \end{array}$$



$$\begin{array}{r} 11 \\ + 65 \\ \hline \dots \end{array}$$

Κάνε τις αφαιρέσεις.



$$\begin{array}{r} 63 \\ - 32 \\ \hline 31 \end{array}$$



$$\begin{array}{r} 75 \\ - 21 \\ \hline \dots \end{array}$$



$$\begin{array}{r} 33 \\ - 12 \\ \hline \dots \end{array}$$

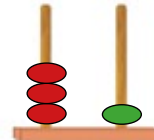


$$\begin{array}{r} 86 \\ - 34 \\ \hline \dots \end{array}$$

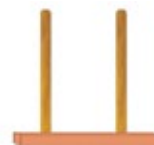


2


Γράψε τον αριθμό που έχει
τρεις **Δεκάδες** και μία **Μονάδα**.



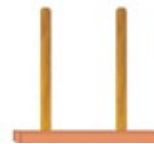
Γράψε τον αριθμό που έχει
επτά **Δεκάδες** και μηδέν **Μονάδες**.




Γράψε τον αριθμό που έχει
μηδέν **Δεκάδες** και οκτώ **Μονάδες**.



Γράψε τον αριθμό που έχει
τέσσερις **Δεκάδες** και εννέα **Μονάδες**.




Γράψε τον αριθμό που έχει
οκτώ **Δεκάδες** και πέντε **Μονάδες**.




Γράψε τον αριθμό που έχει
πέντε **Δεκάδες** και δύο **Μονάδες**.



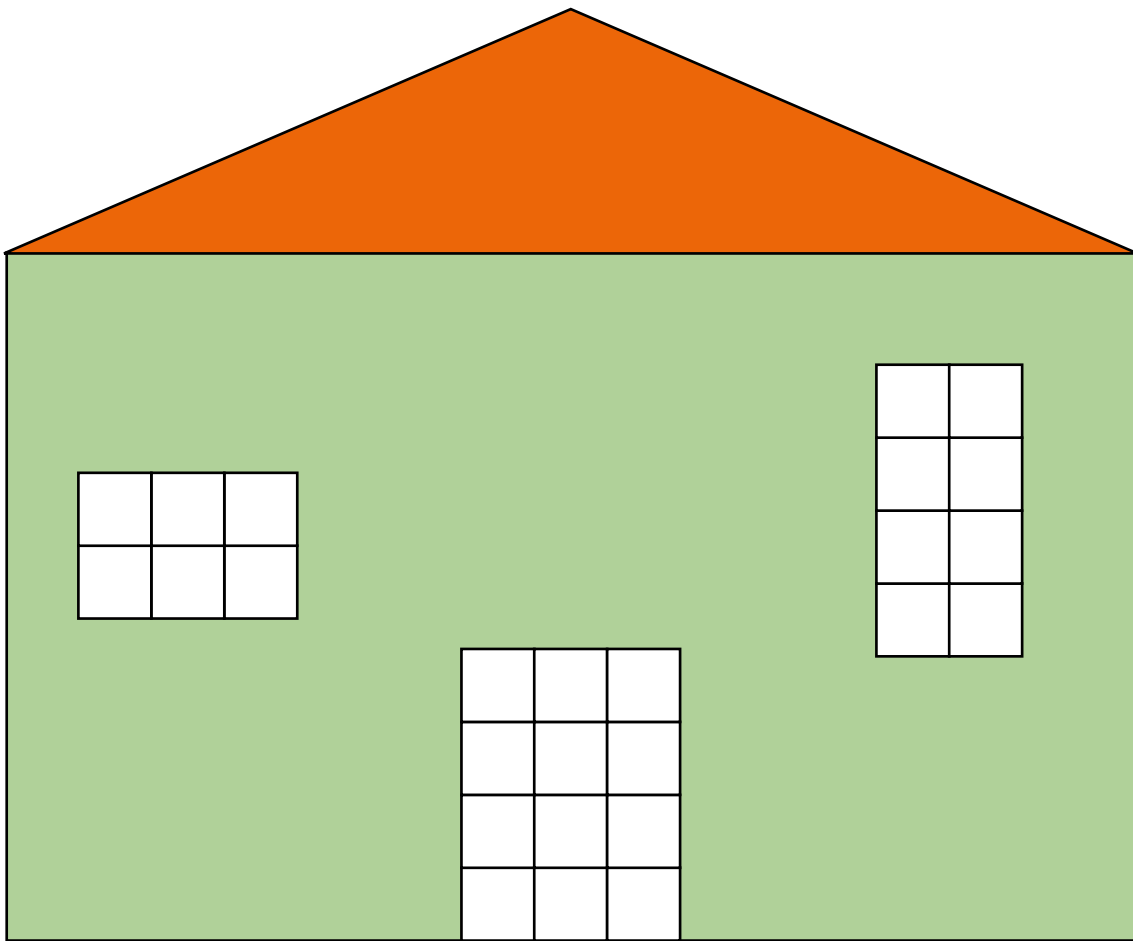
Γράψε τον αριθμό που έχει
μία **Δεκάδα** και επτά **Μονάδες**.





1

Υπολόγισε τα παράθυρα
και την πόρτα.
Ποιο είναι το πιο μεγάλο;



Χρωμάτισε τα παράθυρα
και την πόρτα.
Ξεκίνα από το πιο μικρό
μέχρι το πιο μεγάλο.

Το πιο μικρό		Το πιο μεγάλο
1ο	2ο	3ο



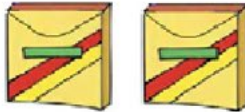
2

Υπολόγισε πόσες κηρομπογιές
έχουν τα κουτιά.

Το 1 κουτί
έχει μέσα
5 κηρομπογιές.



Τα 2 κουτιά
έχουν μέσα **όλα μαζί**
..... κηρομπογιές.



Τα 3 κουτιά
έχουν μέσα **όλα μαζί**
..... κηρομπογιές.



Τα 4 κουτιά
έχουν μέσα **όλα μαζί**
..... κηρομπογιές.



Τα 5 κουτιά
έχουν μέσα **όλα μαζί**
..... κηρομπογιές.

