



1

$$13 - 3 = 10$$

$$15 - \dots = 10$$

$$25 - \dots = 20$$

$$17 - \dots = 10$$

$$27 - \dots = 20$$

Από έναν αριθμό με δυο ψηφία
αφαιρώ τις μονάδες
και βρίσκω τις δεκάδες.



2

Διάβασε τις δεκάδες
και τις μονάδες
και μετά γράψε τον αριθμό.

Μία δεκάδα
και επτά μονάδες.

—	—
---	---

Μία δεκάδα
και έξι μονάδες.

—	—
---	---

Δύο δεκάδες
και πέντε μονάδες.

—	—
---	---

Τέσσερις δεκάδες
και οκτώ μονάδες.

—	—
---	---

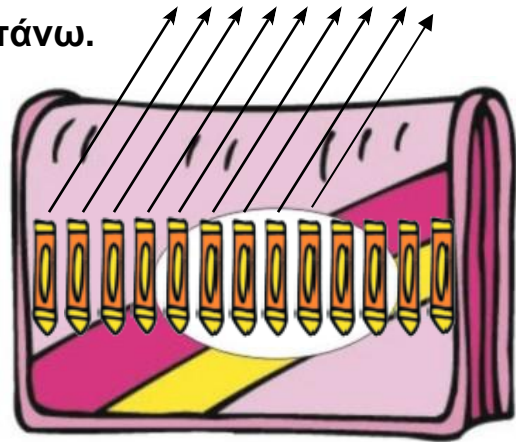
Τρεις δεκάδες
και οκτώ μονάδες.

—	—
---	---

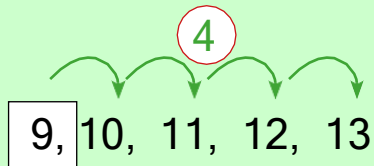


Αφαίρεση με πρόσθεση προς τα επάνω.

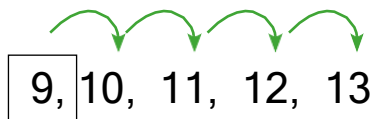
Μέσα στην κασετίνα έχω **13** κηρομπογιές.
Βγάζουμε τις **9** κηρομπογιές.
 Πόσες κηρομπογιές μένουν στην κασετίνα;



Οι 9 κηρομπογιές που έβγαλα και αυτές που έμειναν στην κασετίνα μου κάνουν 13 κηρομπογιές
 $9 + \dots = 13$.
 Πόσο θέλω για να φτάσω από το 9 στο 13;



Για να βρω πόσο κάνει $13 - 9$ βρίσκω πόσα θέλω για να φτάσω από το 9 στο 13.



θέλω **4**

Βρήκα $13 - 9 = 4$

