



Κοίταξε τις εικόνες.
Υπολόγισε
και γράψε τους αριθμούς που λείπουν.

1

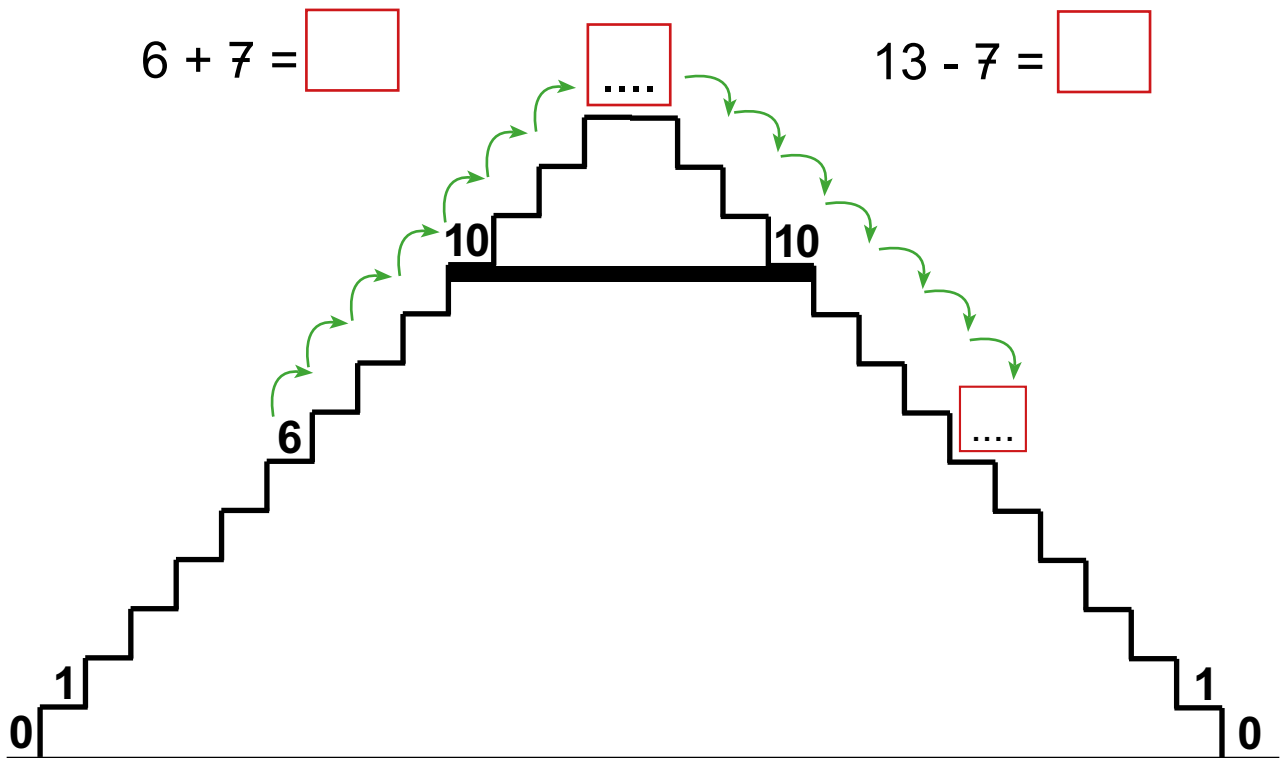


$$8 + 6 = \square$$

$$14 - 6 = \square$$

$$6 + 7 = \square$$

$$13 - 7 = \square$$



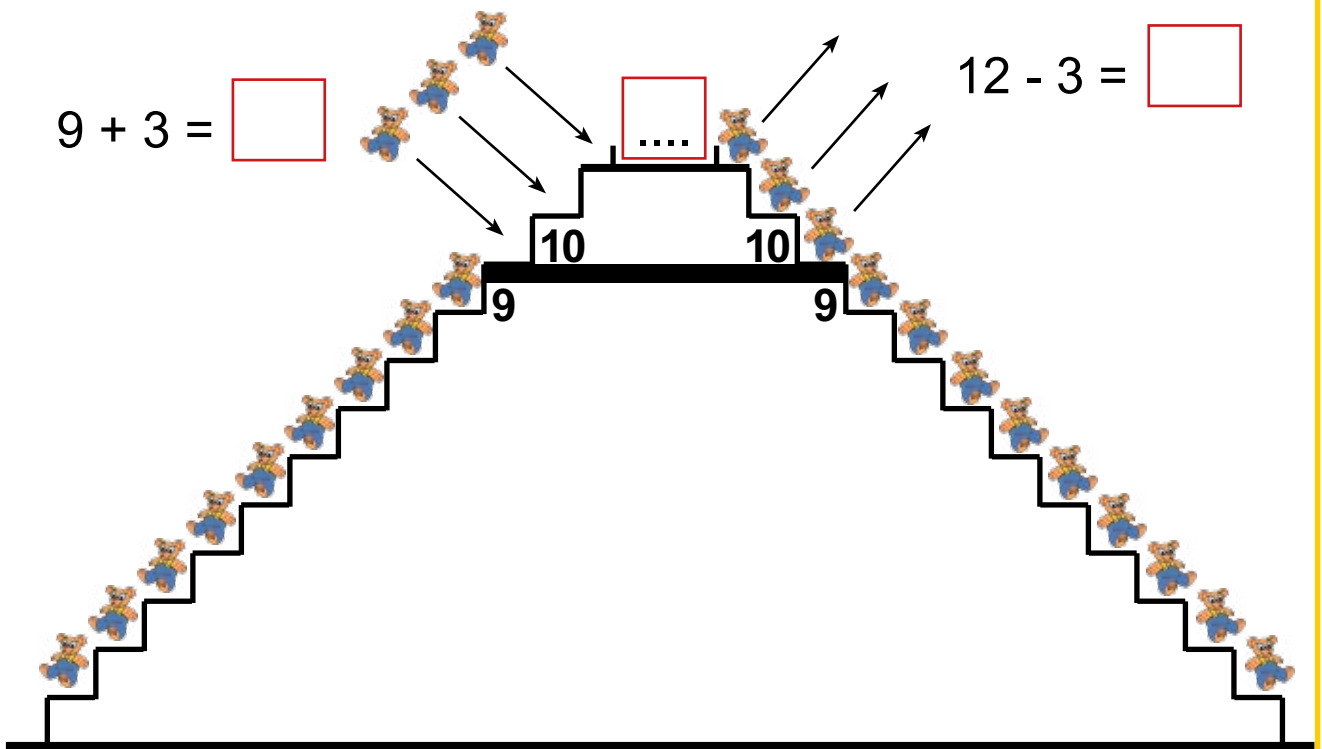


2

Υπολόγισε και γράψε
τους αριθμούς που λείπουν.

$$9 + 3 = \square$$

$$12 - 3 = \square$$



$$8 + 4 = \square$$

$$12 - 4 = \square$$

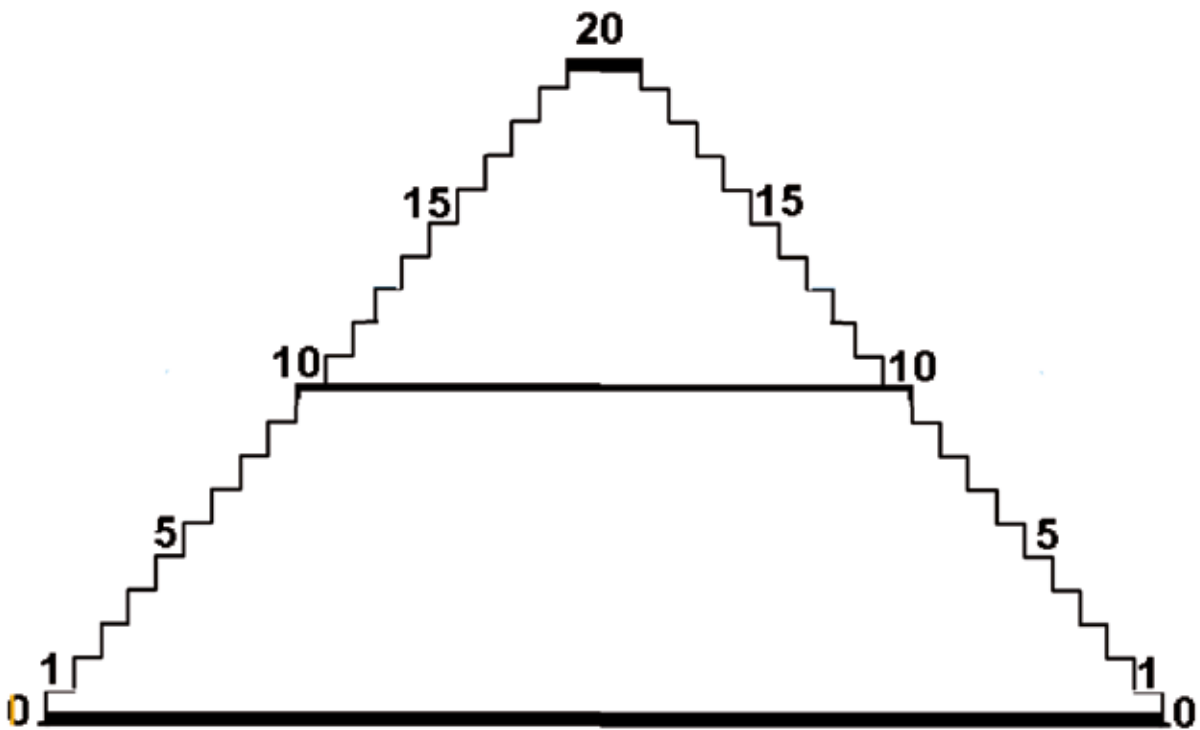
$$7 + 5 = \square$$

$$12 - 5 = \square$$



Με τη βοήθεια της σκαλίτσας υπολόγισε και γράψε τους αριθμούς που λείπουν.

1



$$5 + 7 = \square$$


$$12 - 5 = \square$$

$$9 + 8 = \square$$


$$17 - 9 = \square$$



Όταν αλλάζεις τη σειρά των αριθμών στην πρόσθεση, βρίσκεις το ίδιο.



$$4 + 8 = 12$$



$$8 + 4 = 12$$



Υπολόγισε και γράψε τους αριθμούς που λείπουν.

$$4 + 9 = \dots$$

$$9 + 4 = \dots$$

$$13 - 7 = \dots$$

$$3 + 8 = \dots$$

$$8 + 3 = \dots$$

$$13 - 4 = \dots$$

$$5 + 8 = \dots$$

$$8 + 5 = \dots$$

$$12 - 5 = \dots$$

Υποδεικνύουμε στους μαθητές, όσο αφορά την πρόσθεση δύο αριθμών να ξεκινούν πάντα από τον μεγαλύτερο.