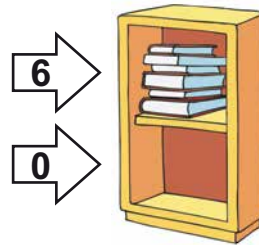


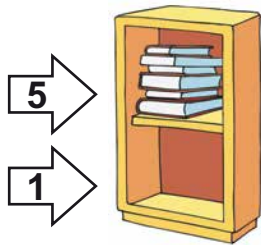


Βάλε 6 βιβλία μέσα σε 2 ράφια
με όλους τους διαφορετικούς τρόπους.
Γράψε μέσα στα βελάκια
τους αριθμούς που δείχνουν
πόσα βιβλία βάζεις σε κάθε ράφι.
Μετά, γράψε την πρόσθεση.

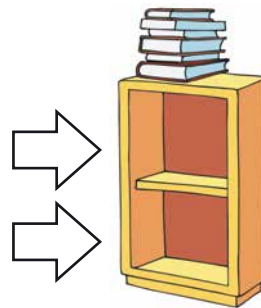
1



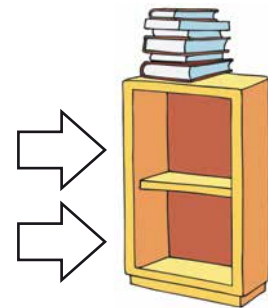
$$6 + 0 = 6$$



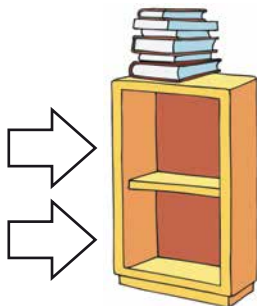
$$5 + 1 = 6$$



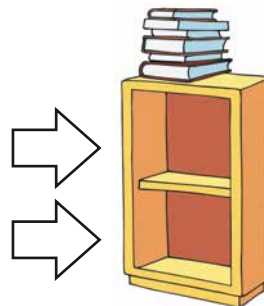
$$\dots + \dots = \dots$$



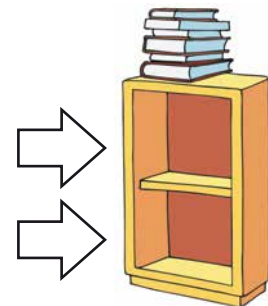
$$\dots + \dots = \dots$$



$$\dots + \dots = \dots$$



$$\dots + \dots = \dots$$



$$\dots + \dots = \dots$$



Βάλε 7 βιβλία μέσα σε 2 ράφια με όλους τους διαφορετικούς τρόπους. Γράψε μέσα στα βελάκια τους αριθμούς που δείχνουν πόσα βιβλία βάζεις σε κάθε ράφι. Μετά, γράψε την πρόσθεση.



$7 + 0 = 7$

$6 + 1 = 7$

... + ... = ...

... + ... = ...

... + ... = ...

... + ... = ...



... + ... = ...

... + ... = ...




Με διαφορετικούς τρόπους
παίρνουμε 8 λουλούδια κάθε φορά,
μπλε και κόκκινα.
Γράψε τους αριθμούς που λείπουν.


1




$$0 + 8 = 8$$



$$1 + 7 = 8$$




$$\dots + \dots = \dots$$




$$\dots + \dots = \dots$$




$$\dots + \dots = \dots$$




$$\dots + \dots = \dots$$



$$\dots + \dots = \dots$$




$$\dots + \dots = \dots$$



$$\dots + \dots = \dots$$



Με διαφορετικούς τρόπους
παίρνουμε 9 λουλούδια κάθε φορά
μπλε και κόκκινα.
Γράψε τους αριθμούς που λείπουν.



$$0 + 9 = 9$$




$$1 + 8 = 9$$




$$2 + 7 = 9$$




$$\dots + \dots = \dots$$



$$\dots + \dots = \dots$$




$$\dots + \dots = \dots$$




$$\dots + \dots = \dots$$



$$\dots + \dots = \dots$$



$$\dots + \dots = \dots$$



$$\dots + \dots = \dots$$