



Το σούπερ μάρκετ.



Αλλαξε τα νομίσματα
με νομίσματα του 1 €.
Ζωγράφισε όσα νομίσματα πρέπει.



1

και

1




2





Με 1 λεπτό αγοράζεις ένα γλειφιτζούρι.

Βάλε σε κύκλο τα γλειφιτζούρια που μπορείς να αγοράσεις κάθε φορά.

Γράψε πόσα γλειφιτζούρια μπορείς να αγοράσεις κάθε φορά.




→

→
3
...


→

→
...


→

→
...


→

→
...



1 ευρώ

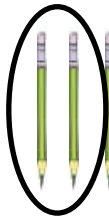


1 ευρώ

Με 1€ αγοράζεις 1 μολύβι.

Βάλε σε κύκλο τα μολύβια που μπορείς να αγοράσεις κάθε φορά.

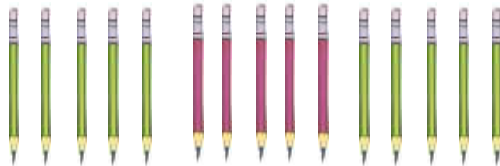
Γράψε πόσα μολύβια μπορείς να αγοράσεις κάθε φορά.



2
...



και



...



και



...



και



...



...



Πόσα νομίσματα
πρέπει να δώσουν
τα παιδιά,
για να αγοράσουν
αυτό που θέλουν;

