




Δύο πουλάκια κάθονται
στο κλαδί.




Ήρθε ακόμα **ένα**.



Βρες πόσα είναι
όλα μαζί.

$$2 + \dots = \dots$$

Μετά ήρθαν και άλλα



Βρες πόσα έγιναν
όλα μαζί.

$$\dots + \dots = \dots$$

1





Πόσα μπαλόνια πρέπει να δώσει
το κορίτσι στο αγόρι,
για να έχουν
ίσο αριθμό μπαλονιών;




Το κορίτσι
θα δώσει μπαλόνια.



2



Κάποια ποντίκια κρύφτηκαν.
Όλα μαζί είναι 5.
Τα ποντίκια που κρύφτηκαν είναι:



3