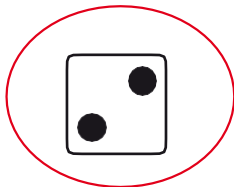


5

Αρίθμηση, ανάγνωση και γραφή των αριθμών (I)





Ένωσε με μία γραμμή τις εικόνες με τους αριθμούς που ταιριάζουν.



2

3

1




1



Με 1 λεπτό αγοράζουμε μία καραμέλα.



Βάλε μέσα σε κύκλο τις καραμέλες που αγοράζεις με 2 λεπτά.




2



3

Ένωσε με μία γραμμή τα νομίσματα με τους αριθμούς και τις λέξεις που ταιριάζουν.



δύο (2)

ένα (1)

τρία (3)



4

Ζωγράφισε τόσα κυκλάκια όσα είναι τα αντικείμενα. Μετά, γράψε τους σωστούς αριθμούς.

	<p>2</p>	